

华师导航教育港澳台联考周考三 地理

| | | | | | | | | | |
|----|----|----|----|----|----|----|----|----|----|
| 1 | 2 | 3 | 4 | 5 | 6 | 7 | 8 | 9 | 10 |
| | | | | | | | | | |
| 11 | 12 | 13 | 14 | 15 | 16 | 17 | 18 | 19 | 20 |
| | | | | | | | | | |

一、选择题：本大题共 20 小题，每题 3 分。在每小题给出的四个选项中，只有一项是符合题目要求的。

图 1 示意某地气温和降水资料。读图 1，完成 1-2 题。

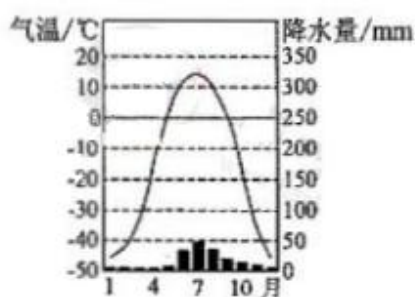
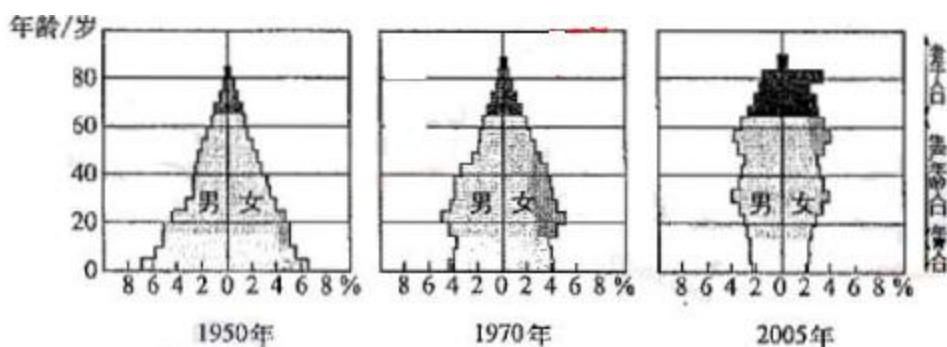


图 1

- 1、该地的地带性植被是 ()
 A、亚寒带针叶林 B、针阔叶混交林 C、温带森林草原 D、落叶阔叶林
- 2、该地可能位于 ()
 A、印度 B、俄罗斯 C、挪威 D、智利

图 2 为某人口超过 1 亿的国家不同年份人口年龄和性别结构变化。读图 2，完成 3-4 题。



- 3、根据图示信息判断，该国 ()
 A、1950 年劳动力最充足 B、1970 年人口增长最快
 C、2005 年老年女性人口超过老年男性人口 D、人口自然增长率持续增高
- 4、当前，该国人口面临的主要问题是 ()
 A、数量急剧增加 B、老龄化严重
 C、新生儿男女比例失衡 D、有大量剩余劳动力
- 5、下列大河中，流向大致与地球自传方向一致的是 ()
 A、尼罗河 B、亚马孙河 C、刚果河 D、密西西比河
- 6、可能由地震直接引发的自然灾害是 ()

- A、台风 B、寒潮 C、海啸 D、龙卷风

图 3 为某国能源消费构成的变化。读图 3，完成 7-8 题。

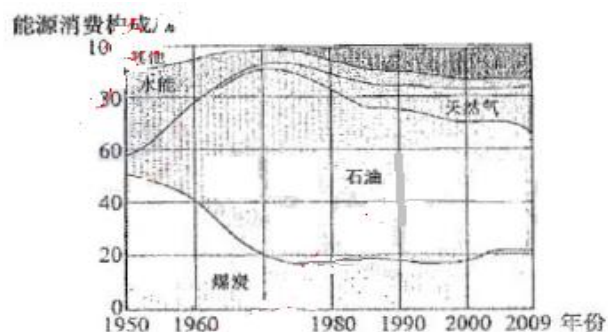


图 3

- 7、1950-2009 年，该国 ()
- A、煤炭比重持续下降 B、能源消费构成渐趋多元化
- C、石油消费量大幅下降 D、水能渐趋枯竭
- 8、该国可能是 ()
- A、印度 B、巴西 C、日本 D、中国
- 9、下列钢铁工业企业中，原理原料、燃料产地而临近市场布局的是 ()
- A、鞍钢 B、攀钢 C、唐钢 D、宝钢
- 10、我国在甘肃酒泉建设的有“陆上三峡”之称的大型能源基地，开发的能源是 ()
- A、风能 B、谁能 C、太阳能 D、核能
- 11、世界很多国家共同签订的《京都议定书》，应对的全球性环境问题是 ()
- A、生物多样性锐减 B、环境污染
- C、南极“臭氧空洞” D、全球变暖
- 12、下列各组地貌景观中，形成景观的主要作用力相同的一组是 ()
- A、长白山天池、杭州西湖 B、黄山怪石、野柳怪石
- C、云南石林、桂林山水 D、长江三峡、东非大裂谷
- 13、下列国家天然气产量最多的是 ()
- A、俄罗斯 B、美国 C、中国 D、英国
- 14 地中海沿岸典型的经济作物是 ()
- A、大豆 B、花生 C、油橄榄 D、甜菜
- 15、下列国家中，是世界重要稻米出口国的是 ()
- A、孟加拉国 B、泰国 C、土耳其 D、委内瑞拉
- 16、与北半球信风风向相同的是 ()
- A、亚欧大陆东岸的夏季风 B、北印度洋的冬季风
- C、越过赤道的南半球信风 D、南极地区的极地东风
- 17、下列城市中，一年内太阳升起的方位变化最大的是 ()
- A、柏林 B、罗马 C、开罗 D、科伦坡
- 18、在北方冬季，人们常说“雪后寒”。雪后气温下降的主要原因是 ()
- A、到达地表的太阳辐射减少 B、地面辐射增强
- C、大气辐射增强 D、地表反射率增加
- 19、成都附近著名的古代水利工程是 ()
- A、郑国渠 B、都江堰 C、灵渠 D、邗沟
- 20、1 月平均气温成都 (5.5℃) 比同纬度的武汉 (3℃) 高，主要原因是成都比武汉 ()

A、地势较低 B、受冬季风影响弱 C、离海较远 D、云雾较少

二、简答题（共计 40 分）

21 根据以下信息回答问题

某岛国人口约 500 万(2009 年)，经济发达，淡水资源严重不足，该国国土面积约 640 平方千米，其中主岛面积约 540 平方千米，地形单调，平均海拔不足 15 米，岛上河流最长不足 16 千米。图 I 示意该国主岛及其附近地区，图 II 为对应的气候资料。

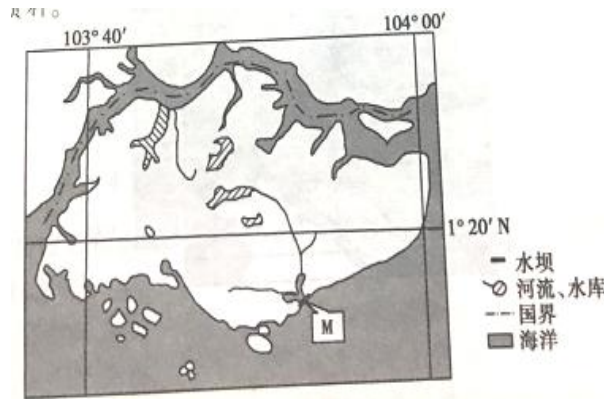


图 I

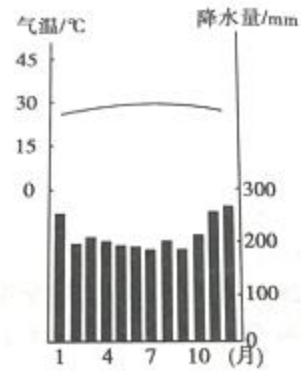


图 II

(1) 简述该国气候特征，并分析该国淡水资源严重不足的主要原因。（4 分）

(2)除建水坝外，请你为该国再提出一种解决淡水资源短缺的办法，并说明理由。（4 分）

22、读图 5 回答农业带的名称。8 分

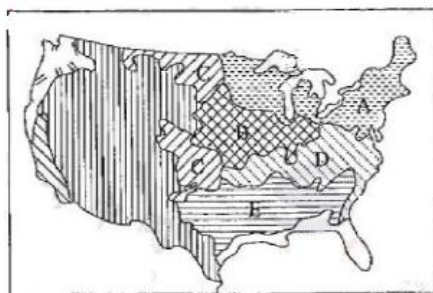


图 5

A 是 _____ B 是 _____ C 是 _____
 D 是 _____ E 是 _____

简述美国乳畜业比较发达的原因？

23 阅读图文资料，完成下列要求。

大江、大河的三角洲地区是我国重点开发区域。读“黄河三角洲经济区”和“长江三角洲经济区”示意图，回答问题。(11分)



(1)要监测两地的土地结构变化，最有效的地理信息手段是_____ (1分)

近年来，黄河三角洲生长速度减慢，主要原因最可能是_____ (2分)，监测两地的土地结构变化，最有效的地理信息手段是_____ (2分)

黄河三角洲地土地盐碱化问题突出，分析其形成的主要原因。3分

与长江三角洲经济区相比，简评黄河三角洲经济区发展的条件。(3分)

24, 图7示意俄罗斯主要地形单元的分布模式，读图7，将图中的字母代表的地理事物名称填写在相应的空格中。(5分)

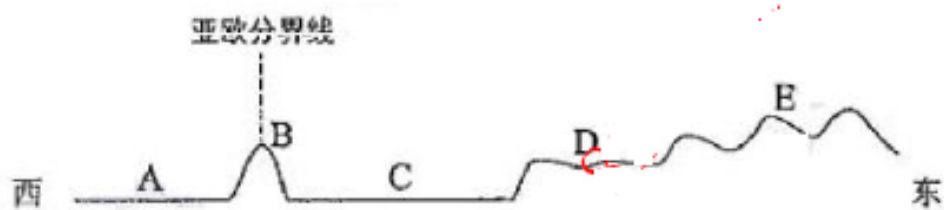


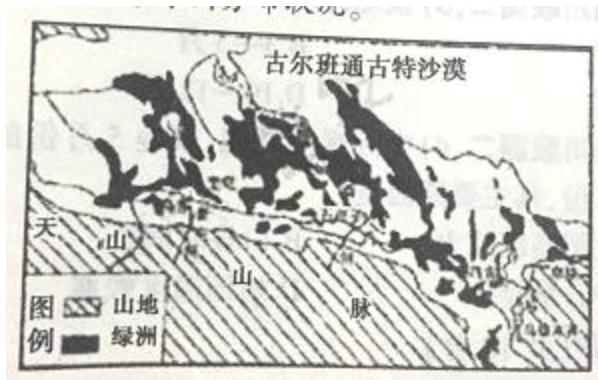
图7

A是_____平原 B是_____山脉 C是_____平原
D是_____高原 E是_____山地

25 阅读图文资料回答下列问题

古尔班通古特沙漠位于天山北侧，面积4.88万平方千米海拔300至600米，是中国第二大

沙漠。下图示意古尔班通古特沙漠局部及边缘绿洲分布状况



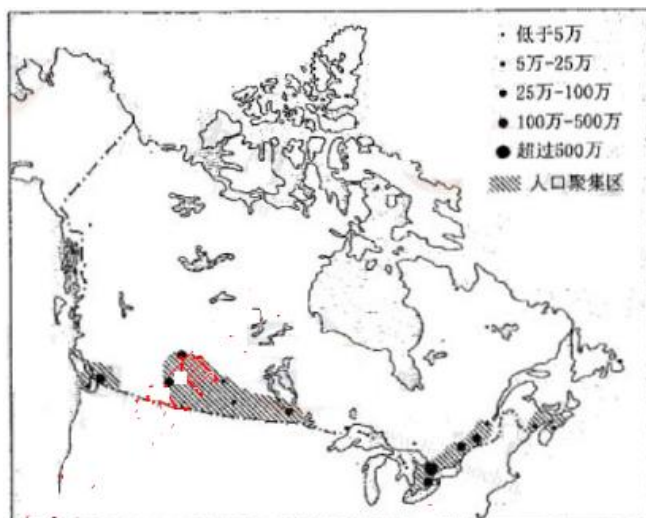
1 简述古尔班通古特沙漠的自然成因。(2分)

2 古尔班通古特沙漠南缘有众多优良的冬季牧场，分析其冬季牧场形成的主要原因。(3分)

3 简述古尔班通古特沙漠的扩张，对当地经济发展的危害(3分)

三、简述题（50分）

26 题，将图 8 示意加拿大人口和城市分布图，读图 8，说明加拿大人口和城市分布的特点和原因（24分）



27. 标识出五大湖名称并简述美国五大湖地区发展钢铁工业的条件。(26分)



(1) 标识出五大湖名称 (10分)

① _____ ② _____ ③ _____ ④ _____ ⑤ _____

(2) 简述五大湖地区发展钢铁工业的条件 (16分)